

Correction du travail en mathématiques pour le CP du mardi 7 avril au vendredi 10 avril.

Fichier de mathématiques

Page 113

Calcul mental : dictée de nombres

74	64	76	66	72
----	----	----	----	----

A: dessiner les sommes avec le moins de billets et de pièces possible

48€ : 20€ 20€ 5€ 2€ 1€

74€ : 50€ 20€ 2€ 2€

B: partager 15 images entre 2 enfants

Louis : ■■■■■■■■

Amina : ■■■■■■■■

Mme Bata : ■

Chacun aura 7 images.

C: trouver 3 solutions

$$8 + 3 = 11$$

$$6 + 3 + 2 = 11$$

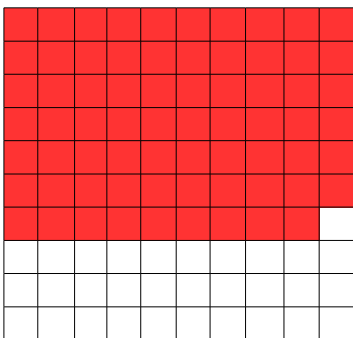
$$8 + 2 + 1 = 11$$

$$9 + 4 = 13$$

$$8 + 4 + 1 = 13$$

$$9 + 3 + 1 = 13$$

D: colorier 69 cases



Page 114

Calcul mental : dictée de nombres

61	71	62	67	77
----	----	----	----	----

A: calculer

	+10	+10	+1	-10	-10	+1
29	39	49	50	40	30	31

	-10	-10	-1	+10	-1	+10
71	61	51	50	60	59	69






B: compléter

**63** : soixante-trois                  **69** : **soixante-neuf**  
**72** : **soixante-douze**              **75** : **soixante-quinze**  
**78** : **soixante-dix-huit**

C: additions

**45 ; 57 ; 62**  
**56 ; 78 ; 48**

D: dessiner les billets et les pièces

**68€** :     

E: additions

**11 ; 12**  
**18 ; 14**  
**13 ; 11**  
**13 ; 12**

Page 115

Calcul mental : additions

40	50	50	60	30
----	----	----	----	----

A: additions

**29 ; 30 ; 32**  
**38 ; 30 ; 41**  
**16 ; 20 ; 24**  
**49 ; 20 ; 33**

B: additions

**51 ; 37 ; 70**  
**29 ; 62 ; 35**

C: additions

**54 ; 39 ; 78 ; 67**

D: dessiner les billets et les pièces

**79€** :     