


$10 + 10 + 10 + 10 + 10 + 4$	43	$20 + 9$
$10 + 10 + 10 + 2$	54	$30 + 2$
$10 + 10 + 10 + 3$	29	$50 + 4$
$10 + 10 + 9$	17	$40 + 3$
$10 + 7$	32	$10 + 7$

Colorie de la même couleur les étiquettes représentant le même nombre :

...	...	$10 + 10 + 10 + 9$
...	$30 + 3$
31
...	$10 + 10 + 7$
24
22	$20 + 2$	$10 + 10 + 2$

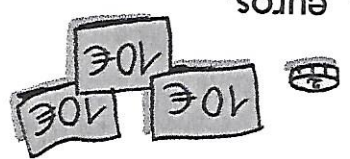
Complète le tableau.

Il y a timbres.




■ Calcule le nombre de timbres.

Marie a euros.

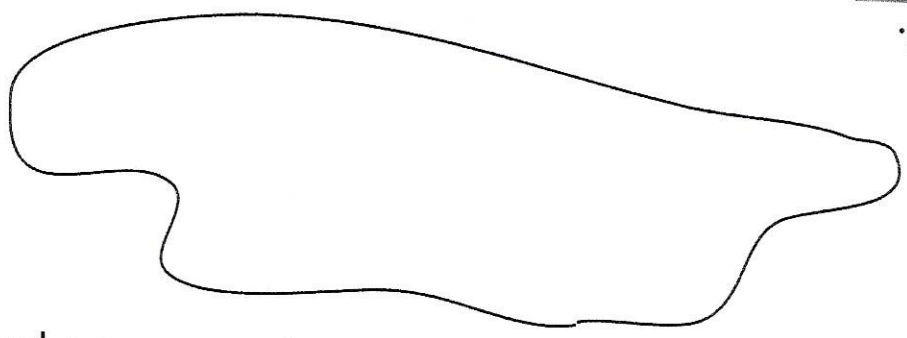
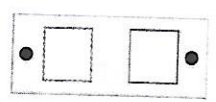


■ Calcule combien Marie a d'argent.

...	...
paquets de 10	

■ Complète.

Le collier a perles.



Dessine un collier formé de 2 paquets de 10 perles et de 6 perles.