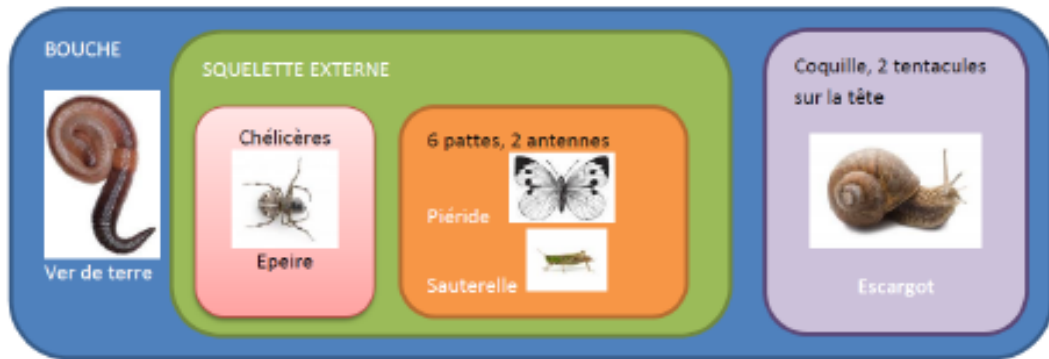


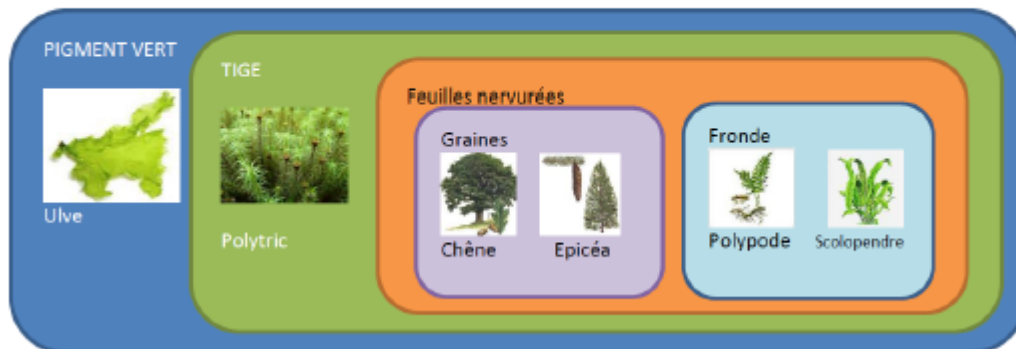
**Exercice 1 : Lire une classification chez les Animaux**



Compléter le tableau de l'exercice 1 en indiquant TOUS les caractères des êtres vivants

Caractères		Chélicères	Squelette externe	Coquille	6 pattes	Bouche	2 antennes	2 tentacules sur la tête	Score : .../5
Animal									Autocorrection Juste ou faux
	Ver de terre								
	Escargot								
	Piéride								
	Epeire								
	Sauterelle								

**Exercice 2 : Lire une classification chez les Végétaux**





Compléter le tableau en indiquant TOUS les caractères des être vivants

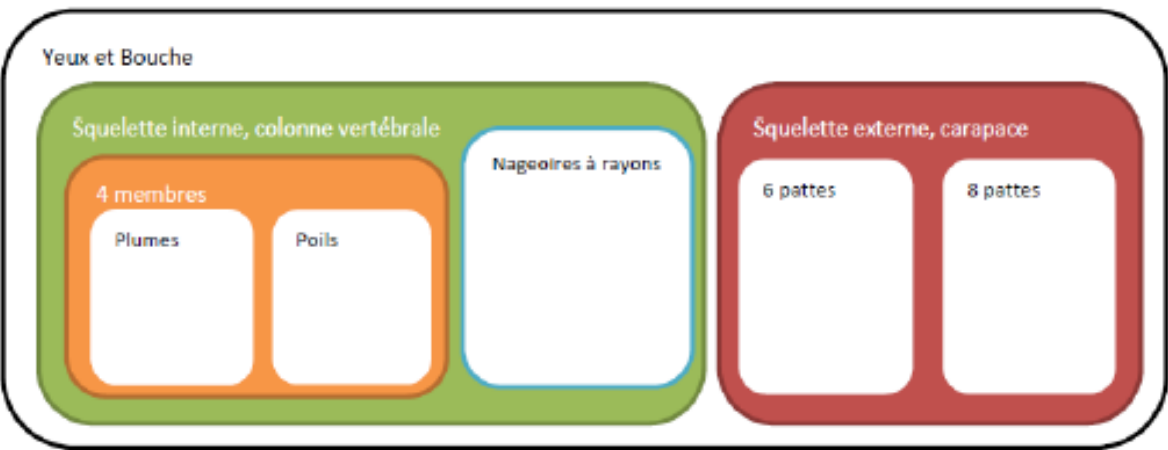
Caractères		Tige	Feuilles nervurées	Graines	Pigment vert	Fronde	Score : .../5
Végétal							Autocorrection Juste ou faux
	Ulve						
	Chêne						
	Polytric						
	Polypode						
	Scolopendre						
	Epicéa						

### Exercice 3 : Placer des animaux des bois dans une classification

Score :  
.../5

Bien observer les animaux suivants et les placer dans la classification existante.

-  Ces animaux possèdent un squelette interne, une colonne vertébrale
-  Ces animaux possèdent un squelette externe, une carapace



## FICHE D'AUTOCORRECTION

### Exercice 1 : Lire une classification chez les Animaux

Caractères Animal	Chélicères	Squelette externe	Coquille	6 pattes	Bouche	2 antennes	2 tentacules sur la tête
Ver de terre					X		
Escargot			X		X		X
Piéride		X		X	X	X	
Epeire	X	X			X		
Sauterelle		X		X	X	X	

### Exercice 2 : Lire une classification chez les Végétaux

Caractères Végétal	Tige	Feuilles nervurées	Graines	Pigment vert	Fronde
Ulve				X	
Chêne	X	X	X	X	
Polytric	X			X	
Polypode	X	X		X	X
Scolopendre	X	X		X	X
Epicéa	X	X	X	X	

### Exercice 3 : Placer des animaux des bois dans une classification

Score :  
...../5

Yeux et Bouche

Squelette interne, colonne vertébrale

4 membres

Plumes

Coucou gris

Poils

Lièvre

Belette

Nageoires à rayons

Squelette externe, carapace

6 pattes

Guêpe

8 pattes

Opilion