
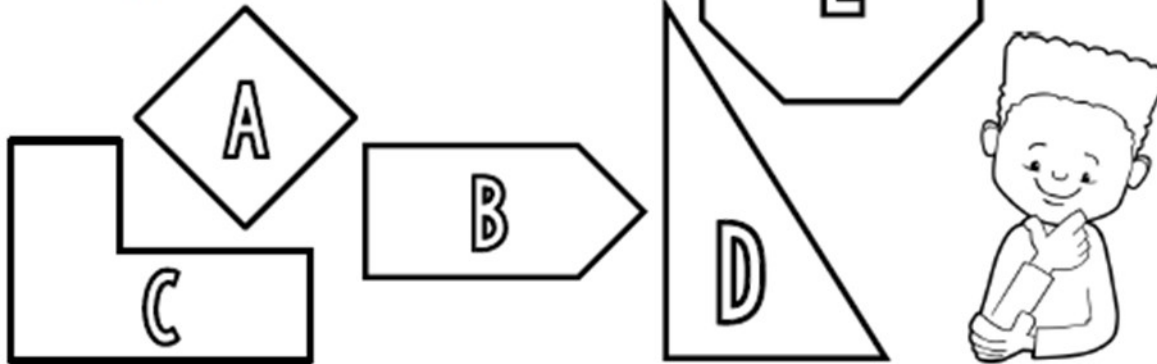


Geométrie

(CMI)

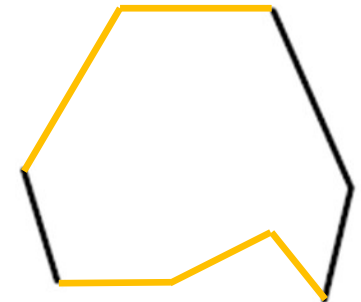
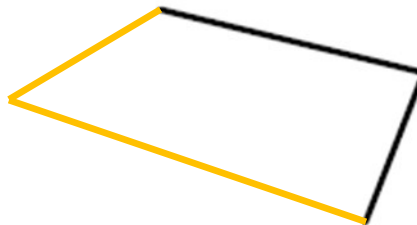
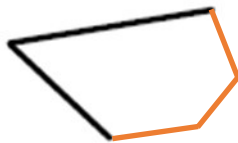
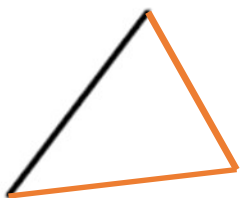


① Complète le tableau.



	Nombre de côtés	Nombre de sommets	Famille de polygones
A	4	4	Quadrilatère
B	5	5	Pentagone
C	6	6	Hexagone
D	3	3	Triangle
E	8	8	Octogone

② Termine de tracer pour obtenir les polygones demandés.



un triangle

un pentagone

un quadrilatère

un hexagone

un octogone

③ Dans ton cahier, trace un quadrilatère avec 4 angles droits.



Geométrie / Les polygones