



## Mes p'tits problèmes hebdomadaires

CE2 – fiche n° 3


<b>1</b>	Dans la classe il y a 26 élèves. La maitresse distribue 4 cahiers et 3 crayons à chaque élève. Combien la maitresse distribue-t-elle de cahiers en tout ?	




<b>2</b>	Sophie range 175 cubes dans une boîte. Puis elle en ajoute 83. Combien y a-t-il de cubes dans la boîte maintenant ?	



<b>3</b>	Dans une boîte, il y a des perles. Sonia ajoute 76 perles dans la boîte. Maintenant, il y a 134 perles en tout. Combien de perles y avait-il dans la boîte avant ?	



<b>4</b>	Dimitri a 150 billes et 43 images dans son sac. Il donne 60 billes à son copain. Combien de billes Dimitri a-t-il maintenant ?	




3 étoiles : Une si l'opération ou le dessin sont adaptés, une si le résultat est juste, une si la phrase réponse est bien formulée  
+ 1 cœur –bonus si l'orthographe est correcte.

/16


## Mes p'tits problèmes hebdomadaires

CE2 – fiche n° 4


<b>1</b>	32 voitures sont transportées dans des wagons. Dans chaque wagon, on peut mettre 5 voitures. Combien faut-il de wagons pour transporter toutes les voitures ?	



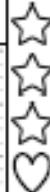
<b>2</b>	La pâtissière met des gâteaux dans des boîtes. Chaque boîte peut contenir 3 gâteaux. Elle a 25 gâteaux à ranger. Combien de boîtes lui faut-il ?	



<b>3</b>	Paul a des images. Il en donne 37 à Mattéo. Maintenant il n'a plus que 113 images. Combien d'images avait-il avant ?	



<b>4</b>	Léa a un joli ruban doré de 1 m de long. Elle en donne la moitié à sa copine Alix. Quelle longueur de ruban lui reste-t-il ?	



3 étoiles : Une si l'opération ou le dessin sont adaptés, une si le résultat est juste, une si la phrase réponse est bien formulée  
+ 1 cœur –bonus si l'orthographe est correcte.

/16